

有機化学I 小問題6

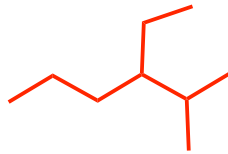
1) 次の化合物の名称は間違っている。正しい名称を記せ。(問題2・50ab+a)

2,2-ジメチル-6-エチルヘプタン



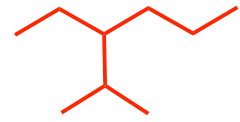
2,2,6-トリメチルオクタン

4-エチル-5,5-ジメチルペンタン

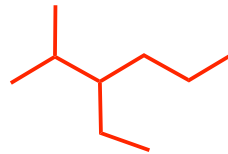


3-エチル-2-メチルヘキサン

3-イソプロピルヘキサン



3-エチル-2-メチルヘキサン



2) 次の反応と逆反応の反応機構を曲がった矢印で示せ。

⊖ は lone pair と見なしてよい。

