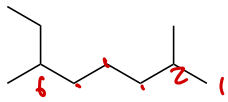
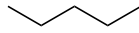


例題2.2, 2.3, 問題2.9, 2.10, 2.11

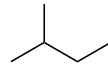
次のアルカンの分子式とIUPAC名を示せ



2,6-ジメチルオクタン



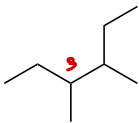
ペンタン



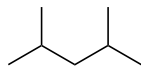
2-メチルペンタン



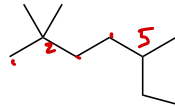
2,2-ジメチルペンタン



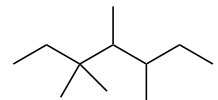
3,4-ジメチルヘプタン



2,4-ジメチルヘキサン



2,2,5-トリメチルヘプタン

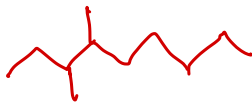


3,3,4,5-テトラメチルヘキサン



次の化合物の骨格構造を示せ

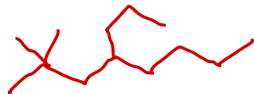
3,4-ジメチルノナン



3-エチル-4,4-ジメチルヘプタン



2,2-ジメチル-4-プロピルオクタン



2,2,4-トリメチルペンタン

