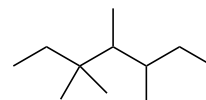
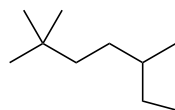
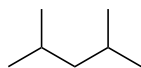
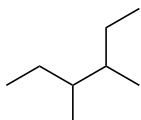
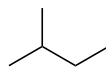
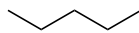
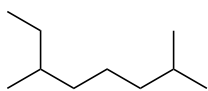


例題2.2, 2.3, 問題2.9, 2.10, 2.11

次のアルカンの分子式とIUPAC名を示せ



次の化合物の骨格構造を示せ

3,4-ジメチルノナン

3-エチル-4,4-ジメチルヘプタン

2,2-ジメチル-4-プロピルオクタン

2,2,4-トリメチルペンタン